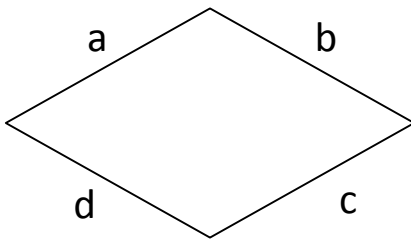


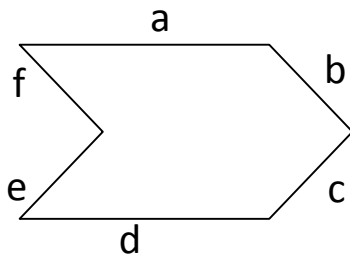
# Dokładnie!

Zmierz z dokładnością do 1 mm długości wszystkich boków poniższych figur. Następnie odczytane wartości wpisz w odpowiednie miejsca.



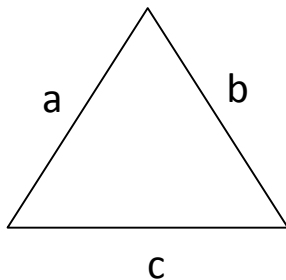
a = .....; b = .....;

c = .....; d = .....

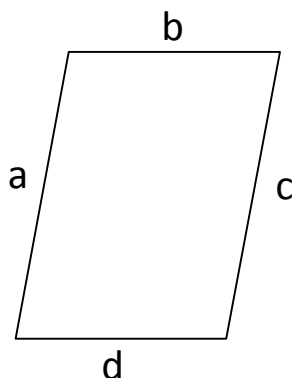


a = .....; b = .....; c = .....

d = .....; e = .....; f = .....



a = .....; b = .....; c = .....



a = .....; b = .....

c = .....; d = .....